



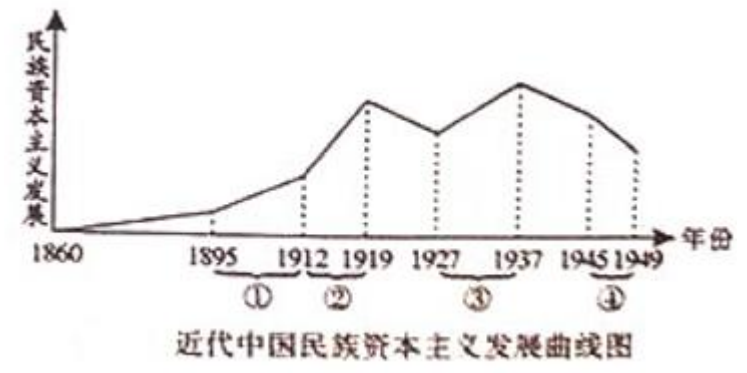
### 高一下学期历史测试卷

(考试时间: 90 分钟, 满分 100 分)

#### 一、选择题 (每小题 2 分, 共计 48 分; 每小题只有一个正确答案)

- 炎帝是我国传说时代的英雄, 又称神农氏。据传他使用“焚林而田”的耕作方法, 还发明了耒、耜等生产工具。这些传说 ( )
  - 是一种没有史料价值的想象
  - 可以作为中国原始农耕的直接证据
  - 折射出中国农耕文明源远流长
  - 证明了炎帝的真实存在
- (题文) 据《东京梦华录》等记载, 宋代都城多见“当街列床凳, 堆垛冰雪”出售凉食和专向客商出租铺席宅舍等现象。这反映了 ( )
  - 生活习俗改变
  - 城市商业功能增强
  - 官府鼓励经商
  - 经商方式不受限制
- 造成古代中国封建社会出现“有力者无田可耕, 有田者无力可耕”现象的根本原因是 ( )
  - 贵族、官僚及豪强霸占良田
  - 封建土地制度的存在
  - 政府采取不抑兼并的政策
  - 地权和劳动者的分离
- 郑观应在《盛世危言》中说, “洋布、洋纱、洋花边入中国, 而女红失业; 煤油、洋蜡、洋电灯入中国, 而东南数省之柏树皆弃为不材; 洋铁、洋针、洋钉入中国, 而业冶者多无事投闲……华民生计皆为所夺矣。”材料说明列强的商品输出 ( )
  - 对中国社会传统的经济生活影响很小
  - 使中国传统的经济迎来了发展机遇
  - 在一定程度上瓦解了中国的自然经济
  - 大幅度提高了中国经济的发展水平

- 李福明办有一个机器面粉厂, 因不满北京官府衙门的勒索而到官府讲理, 结果被以“私设磨房”“哄闹官署”等罪名“交刑部照例治罪”, 他的面粉厂也被迫停业, 这件事表明 ( )
  - 清朝是一个没有法律的政权
  - 外国资本主义阻碍民族工业发展
  - 封建势力反对一切外来事物
  - 封建势力严重阻碍民族资本主义发展
- 曲辕犁的出现标志着中国传统步犁的基本定型。它最早出现于 ( )
  - 秦代
  - 汉代
  - 唐代
  - 宋代
- “黄婆婆, 黄婆婆, 教我纱, 教我布, 两只筒子, 两匹布。”这是自元代流传下的一首民谣, 表达人们对黄道婆的感念之情。黄道婆杰出贡献在于 ( )
  - 丝纺织业
  - 棉纺织业
  - 麻纺织业
  - 毛纺织业
- 清政府放宽民间设厂限制后出现的民族工业发展的高潮时期出现在下图中的哪一时期 ( )
  - ①
  - ②
  - ③
  - ④



- 1897 年, 有人指出: “中国创行西法已数十年, 皆属皮毛, 空言无补。至今两年来, 忽大为变动, 如邮政、银行、铁路, 直见施行, 今天津亦有火轮, 风气之开, 人力诚难阻隔也。”产生上述变化的主要原因是 ( )
  - 维新变法运动迅速兴起
  - 政府大力扶持官督商办企业
  - 列强对华资本输出减少
  - 政府放宽了兴办实业的限制

试场号:

姓名:

考号:

班级:

学校:

题  
管  
要  
不  
内  
线  
封  
密



10. 李洵在《明清史》中说“鸦片战争前夕的清代农业，自然经济仍占主导地位，但是商业性农业已经出现。……商业性农业的发展主要集中在长江以南的苏、杭地区和粤江下游广州附近地区。鸦片战争后，中国的商业性农业有了一定程度的发展。”下列各项属于鸦片战争后中国“商业性农业”发展原因的是（ ）

- A. 外国资本主义对中国农业原料的掠夺
- B. 自给自足的自然经济主体地位未改变
- C. 民族资本主义企业在夹缝中日益萎缩
- D. 清政府对“商业性农业”发展的重视

11. 19世纪中期以后，中国市场上的洋货日益增多，火柴、洋布等日用品，“虽穷乡僻壤，求之于市，必有所供”。这种状况表明（ ）

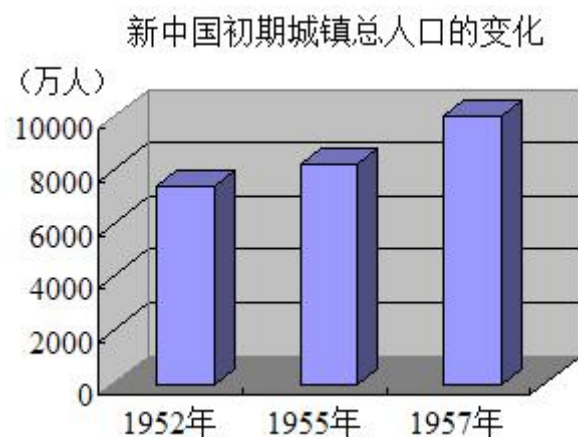
- A. 中国市场由被动开放转为主动开放
- B. 商品经济基本取代自然经济
- C. 日常生活与世界市场联系日趋密切
- D. 中国关税主权开始丧失

12. 中国读书人历来“耻于言商，耻于言利”，而清末“状元实业家”张謇却放弃仕途，投身于近代工商业。这里反映出的观念意识是（ ）

- A. 实业救国
- B. 工商皆本
- C. 重利轻义
- D. 重商轻农

13. 城镇人口数量的变化能够反映一个国家经济发展的状况。与如图现象直接相关的是（ ）

- A. “一五”计划的实施
- B. “大跃进”运动开展
- C. 人民公社化运动掀起
- D. 包产到户的基本实现



14. 《北齐书》记载了一种当时的铸造法，“其法烧生铁精以重柔铤(熟铁)，数宿则成刚(钢)”，用此法铸造出来的兵器坚韧锋利。这种技术出现于（ ）

- A. 西周
- B. 秦朝
- C. 南北朝
- D. 明朝

15. “南阳太守(杜诗)，善于计略，省爱民役，造成水排，铸为农器，用力少而建功多，百姓便之。”这里的“水排”是（ ）

- A. 耕作工具
- B. 手工工具
- C. 冶铁工具
- D. 运输工具

16. 在我国古代，“社稷”是国家的代称。其中，“社”指土地之神，“稷”指主管五谷之神。关于国家的这种理解，反映了我国古代（ ）

- A. 以农业为立国之本
- B. 农业与土地的关系
- C. 非常重视祭祀
- D. 小农经济的突出特点

17. 在广泛吸收欧美服饰优点的基础上形成的中国近现代民族服饰是（ ）

- ①长袍马褂
- ②中山装
- ③列宁装
- ④旗袍

- A. ①③④
- B. ②③④
- C. ②④
- D. ③④

18. 下列情况，在民国时期不可能有的是（ ）

- A. 见面握手，互称“同志”
- B. 中西餐并行
- C. 男多留长辫，女多缠足
- D. 举行西式婚礼

19. 国民党统治后期，民族工业发展陷入困境的主要原因是（ ）

- ①恶性通货膨胀政策
- ②官僚资本的压迫
- ③繁重的捐税负担
- ④美国对中国的经济侵略

- A. ①②③④
- B. ①②④
- C. ②③④
- D. ①②③



学校: \_\_\_\_\_ 班级: \_\_\_\_\_ 考号: \_\_\_\_\_ 姓名: \_\_\_\_\_ 考场号: \_\_\_\_\_

试卷内 不要 答题 线 封 密

20. 《新唐书》记载：“唐制……日暮鼓八百声而门闭。五更二点鼓自内发，诸街鼓承振，坊市门皆起。”陆游《老学庵笔记》载：“京都街鼓今尚废，后生读唐诗文及街鼓者，往往茫然不能知。”唐宋街鼓这一变化从一个侧面反映了（ ）

A. 社会治安明显好转    B. 坊市制度已经崩溃  
C. 都城人口急剧增长    D. 城市管理更加严格

21. 在广州举行的“中国出口商品交易会”（简称“广交会”），既是新中国对外贸易的重要平台，也是外交工作的“晴雨表”。周总理在论及其创办的国际背景时说：“广交会是在我们被封锁的情况下不得已搞的。”据此判断，首届广交会应该创办于（ ）

A. 1947年    B. 1957年    C. 1977年    D. 1987年

22. 曾有一首童谣：“三大万岁是‘乱睡’，人民公社只一岁。”（“三大万岁”是：“总路线万岁，大跃进万岁，人民公社万岁”）。下列说法不正确的是（ ）

A. 童谣所反映的事件发生于全面建设社会主义时期  
B. 人民公社化运动在一定程度上损害了农民的生产积极性  
C. 人民群众对总路线、大跃进、人民公社存在不满情绪  
D. “三大万岁”是“左”倾错误的根源

23. 请判断出现下表中局面的原因（ ）

1962年	农业产值	粮	棉花
原计划	比上年增长 8.5%	3216 亿	2200 万担
实际达到	比上年增长 11.6%	3400 亿	2400 万担

- A. 社会主义建设总路线                      B. 人民公社化运动  
C. 调整国民经济的“八字方针”        D. 文化大革命

24. 康有为“若在外国，为外人指笑，尤遭戏侮，斥为臀尾，去之无损，留之反劳”。康有为的这一号召（ ）

A. 推动了近代“断发易服”的序幕        B. 已经具有了反清革命的色彩  
C. 推动政府全面颁布剪辫易服法令        D. 推动中国男子更换近代发型

二、材料分析题（共 4 小题，满分 52 分）

25. 阅读下列材料：

材料一

戮力本业，耕织致粟帛多者复其身。事末利及怠而贫者，举以为收孥。

——《史记·商君列传》

材料二

凡士工商贾，皆赖食于农，以故农为天下之本务，而工贾皆其末也。市肆之中多一工作之人，即田亩之中少一耕稼之人

——《大清会典事例》

材料三

马行街铺席：马行北去旧封丘门外祆庙斜街州北瓦子……其余坊巷院落，纵横万数，莫知纪极（终极）。处处拥门，各有茶坊酒店，勾肆饮食。市井经纪之家，往往只于市店旋买饮食，不置家蔬……夜市直至三更尽，才五更又复开张。如要闲去处，通晓不绝。

——《东京梦华录·卷三》

材料四

（嘉定县南翔镇）“四方商贾辐辏，廛市蝉联”，但自明至清，“多徽商侨寓，百货填集，甲于诸镇”。

——摘编自《南翔镇志》

请回答：

- (1) 据材料一，材料一中的“本”“末”各指什么？根据材料二，概括清政府奉行的经济政策。(4分)
- (2) 据材料三，概括宋代商业发展的表现，指出其对城市布局和功能的影响。(5分)
- (3) 据材料四，指出明清时期商业有哪些新发展？综合以上材料，指出城市与商业发展之间的关系。(3分)



26. 经济结构的变化反映了我国经济发展的历程。阅读下列材料:

材料一

徐州古丰县,有村曰朱陈。去县百余里,桑麻青氛氲。机梭声札札,牛驴走纒纒。女汲涧中水,男采山上薪。县远官事少,山深人俗淳。有财不行商,有丁不入军。家家守村业,头白不出门。生为村之民,死为村之尘。

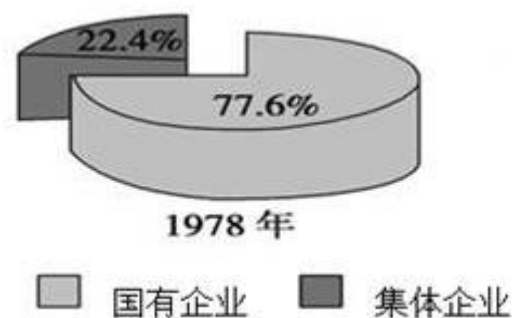
——白居易《朱陈村》

材料二

清同治十一年(1872年),陈启沅回到缫丝传统悠久的家乡南海简村,创办继昌隆缫丝厂。他从外国购进锅炉一座,……同时,陈启沅在简村和附近的吉水村一带招收男女工(以女工占大多数)数十人,亲自给这些新工人教授“仿西人缫丝之法”,择了个好日子,投茧开工,取名为“继昌隆”,成为近代中国第一个民族资本经营的机器缫丝厂。

——邢甲志《清末广东南海继昌隆缫丝厂创办人陈启沅》

材料三



——彭森主编:《中国经济体制改革年鉴》

请回答:

- (1) 根据材料一,指出我国古代经济发展的主要模式、特点及所反映的经济观念。(3分)
- (2) 据材料二,指出近代中国经济结构有何变化?结合所学知识,分析变化的历史条件。(4分)
- (3) 据材料三,指出我国生产资料所有制发生了怎样的变化?这一变化反映了我国经济体制改革的目标是什么?(4分)

27. 阅读下列材料:

材料一:

大会(中共八大)正确地分析了国内形势和国内主要矛盾的变化,提出了党在今后的根本任务。刘少奇的政治报告,不仅系统地论述了以《论十大关系》为中心的一系列方针政策,而且进一步提出和解决了一系列战略问题。大会关于政治报告的决议明确指出:我们党已经领导人民取得了对农业、手工业和资本主义工商业的社会主义改造的全面的决定性的胜利。

——胡绳《中国共产党七十年》

材料二:

脚踏黄河水倒流,搬来泰山做枕头;决心苦干十五年,赶上英国不发愁。

材料三:

热热闹闹的公社食堂



松松垮垮的田间劳动



材料四:随着农村经济体制的改革,现行农村政社合一的体制显然很不适应。宪法已明确规定在农村建立乡政府,政社必须相应分开。

——引自《中共中央、国务院关于实行政社分开建立乡政府的通知》(1983年)

- (1) 根据材料一并结合所学知识指出,中共八大认为当时国内的主要矛盾是什么?怎样才能解决这一矛盾?(5分)
- (2) 材料二,三分别反映了哪一历史事件?以这两个事件为代表的经济建设失误造成了怎样的严重后果?(4分)
- (3) 材料四中提到的我国农村经济体制改革的主要内容是什么?有何意义?(5分)





学校：\_\_\_\_\_ 班级：\_\_\_\_\_ 考号：\_\_\_\_\_ 姓名：\_\_\_\_\_ 试场号：\_\_\_\_\_

密 封 线 内 不 要 答 题

28. 根据材料与所学知识回答问题。

材料：

天下已平，（汉）高祖乃令贾人不得衣丝乘车，重租税以困辱之。孝惠、高后时……市井之子孙亦不得仕宦为吏。

--- 《史记》

工商杂色之流，假令术逾侪类（同辈之人）……止可厚给财物，必不可超授官秩，与朝贤君子比肩而立，同坐而食。

--- 《旧唐书》

古者官民一家也，农商一事也……商籍农而立，农赖商而行，求以相辅，而非求以相病，则良法美意，何尝一日不行于天下哉。

--- （宋）陈亮：《龙川集》

士之子恒为士，商之子恒为商。严氏之先，则士商相杂，（严）舜工又一人而兼之者也。然吾为舜工计，宜专力于商，而戒子孙勿为士。盖今之世，士之贱也，甚矣！

--- （清）归玄恭：《归庄集》

评述中国古代商人社会地位的变迁。（15分）